

11

Richesse et pauvreté dans le monde

→ Comment sont réparties la richesse et la pauvreté dans le monde ?

Au cycle 3

En CM2, j'ai appris que les êtres humains ont un accès inégal à certaines ressources, par exemple Internet.

Au cycle 3

En 6^e, j'ai appris que la qualité de vie en France est différente entre un pays développé et un pays en développement, mais que dans les deux cas on constate des inégalités.

Ce que je vais découvrir

Les inégalités de richesse et de pauvreté se retrouvent à toutes les échelles.



1 Un restaurant chic surplombant un bidonville à Mumbai, 2012



Le sais-tu ?

Aujourd'hui dans le monde, près de 840 millions de personnes vivent dans une extrême pauvreté, tandis que 80 personnes détiennent la moitié de la richesse mondiale.



2 Une sans domicile fixe, place de la Bastille à Paris, 2013

On compte près de 30 000 sans-abri dans l'agglomération parisienne, un chiffre en progression de plus de 80 % depuis 2001.

Sur **le cahier** : Recopier le titre et la problématique

Recopier tout le vocabulaire du chapitre
et l'apprendre

- 14 % dans les pays du Nord
- 86 % dans les pays du Sud
- 66 % en ville

D'ici à 2050 la consommation en eau, énergie, alimentation sera multipliée par plus de 2.

partout d'une
eaux des
dans les pays
nt pas accès à
quitable. Ainsi
alimentation.

s'accompagne
rbaine se tra-
bitat précaire
e, où la moitié

ent

t une questio
ent. Le vieilliss
selon les pays
véritable défi

tre défi : une
proposer un
s d'aujourd'hui
ires à répondre
en 1987].

VOCABULAIRE

► **Croissance démographique**
Augmentation de la population.

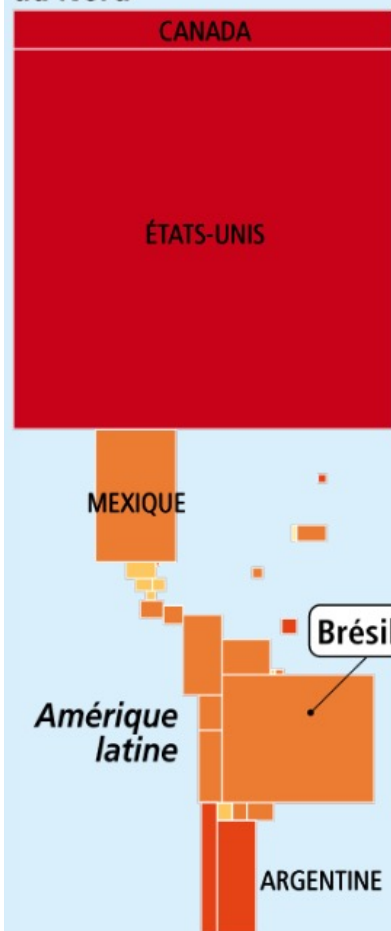
► **Développement**
Amélioration générale des conditions de vie d'une population.

► **Développement durable**
C'est « un développement qui répond aux besoins des générations du présent sans compromettre la capacité des générations futures à répondre aux leurs » [Brundtland, ONU, 1987].

► **Développement équitable**
Développement qui profite à tous.

LES INÉGALITÉS DANS LE MONDE

Amérique du Nord



Norvège 63 900 \$

Europe

France 36 600 \$

ROYAUME-UNI

ALLEMAGNE

SUISSE

ITALIE

ESPAGNE

Russie 22 600 \$

CHINE

Japon 36 700 \$

CORÉE DU SUD

TURQUIE

INDE

SINGAPOUR

Asie

INDONÉSIE

ARABIE SAOUDITE

AUSTRALIE

Afghanistan 1 900 \$

Afrique

NIGERIA

R.D. Congo 440 \$

AFRIQUE DU SUD

Cliquer sur la légende

TOUT MASQUER

Source : PNUD 2014.

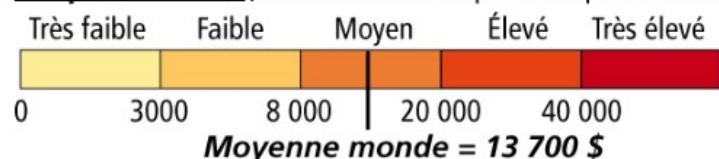
PIB par État

(en milliards de dollars)



Chaque carré ou rectangle est proportionnel à la richesse des États : plus sa surface est grande, plus le pays est riche.

PIB par habitant (en dollars de PPA=parité de pouvoir d'achat)



LES INÉGALITÉS DANS LE MONDE

Amérique du Nord



Norvège 63 900 \$

Europe

France 36 600 \$

ROYAUME-UNI

ALLEMAGNE

SUISSE

ITALIE

ESPAGNE

Russie 22 600 \$

CHINE

Japon 36 700 \$

KORÉE SUD

TURQUIE

INDE

SINGAPOUR

ARABIE SAOUDITE

Afghanistan 1 900 \$

AUSTRALIE

Afrique

NIGERIA

R.D. Congo 440 \$

AFRIQUE DU SUD

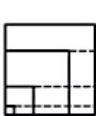
Cliquer sur la légende

TOUT MASQUER

Source : FNUD 2014.

PIB par État

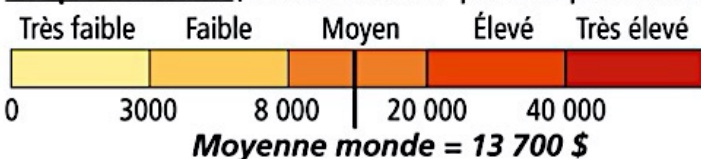
(en milliards de dollars)



1
5
100
10

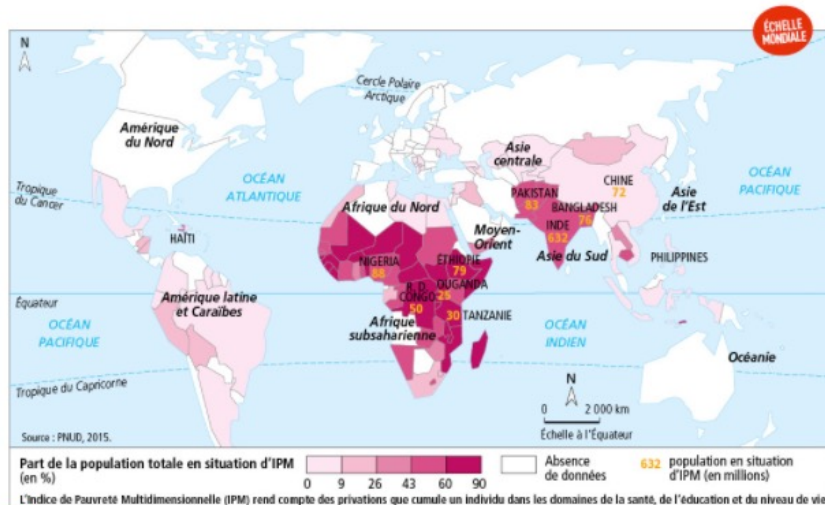
La surface est grande, plus le pays est riche.

PIB par habitant (en dollars de PPA=parité de pouvoir d'achat)



La pauvreté dans le monde

Question clé Qu'est-ce que la pauvreté ? Comment se répartit-elle dans le monde ?



1 La géographie de la pauvreté mondiale

2 L'ONU lutte contre la pauvreté

Le monde a fait des progrès extraordinaires : au cours des 25 dernières années, plus d'un milliard de personnes sont passées au-dessus du seuil de pauvreté. Toutefois, plus de 800 millions de personnes continuent de vivre dans l'extrême pauvreté¹.

Lors de l'adoption du Programme de développement durable à l'horizon 2030, les dirigeants du monde se sont engagés à mettre fin à la pauvreté sous toutes ses formes, partout dans le monde. Il nous faut maintenir cet esprit. Notre génération peut être la première à connaître un monde sans pauvreté extrême.

■ D'après Ban Ki-moon, Secrétaire général de l'ONU, lors de la Journée mondiale du refus de la misère, le 17 octobre 2015.

1. Avec moins de 1,25 dollar par habitant et par jour.

3 Inégalité entre villes et campagnes à Haïti

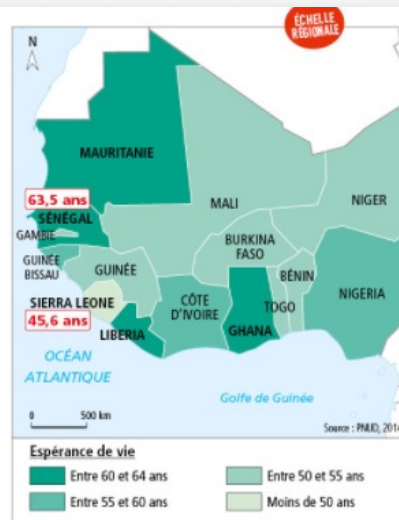
L'écart entre la population urbaine et rurale en Haïti est saisissant : près de 70 % des ménages ruraux sont considérés chroniquement pauvres contre un peu plus de 20 % dans les villes. [...]

Alors que les choses s'améliorent dans les villes [...], en particulier dans la zone métropolitaine de Port-au-Prince, la situation est plus sombre pour la campagne [...].

Par exemple, seulement 11 % des gens de la campagne haïtienne ont accès à l'énergie contre 63 % dans les villes ; 16 % dans les zones rurales ont accès à un assainissement amélioré¹, contre 48 % dans les villes. [...] Cela est d'autant plus inquiétant que la plupart des Haïtiens vit à la campagne : plus de la moitié de la population.

■ D'après le site Internet de la Banque mondiale, 11 juillet 2014.

1. Installations sanitaires offrant un bon niveau d'hygiène.



4 L'espérance de vie en Afrique de l'Ouest
L'espérance de vie est un indicateur de niveau de développement.

CHIFFRES CLÉS

- ➔ **12 millions** d'enfants de moins de 5 ans décédés dans le monde en 1990
- ➔ **6 millions** en 2015

■ Source : Rapport OMD, 2015.



5 Affiche publicitaire pour un nouveau quartier riche dans un bidonville de Manille, Philippines, 2014

Activités

Question clé Qu'est-ce que la pauvreté ? Comment se répartit-elle dans le monde ?

ITINÉRAIRE 1

■ Je me repère dans l'espace à différentes échelles

- Doc 1.** Dans quelles régions du monde la population vivant dans la pauvreté est-elle la plus nombreuse ?
- Doc 2.** Comment la pauvreté a-t-elle récemment évolué ? Comment l'expliquer ?
- Doc 3, 4 et 5.** Que nous apprennent ces documents sur la répartition de la pauvreté à l'échelle des pays pauvres ?

■ Je m'exprime à l'oral

- 4** À partir de cette étude documentaire, vous disposez de 3 minutes pour répondre oralement à la question clé.

ITINÉRAIRE 2

■ Je complète un tableau [étape 2]

À l'aide des documents 1 à 5, terminez de compléter le tableau pour répondre à la question clé.

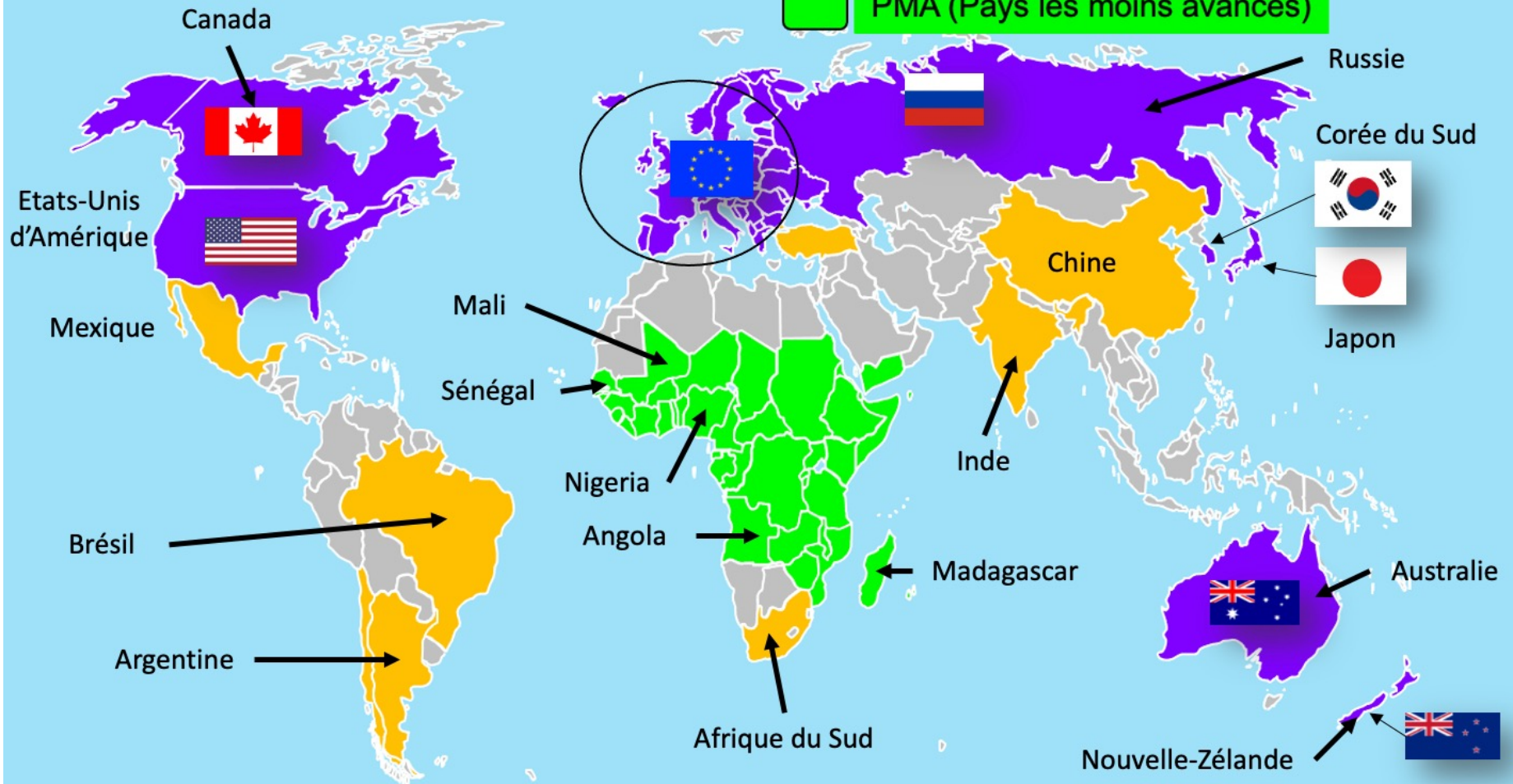
	Richesse	Pauvreté
À l'échelle mondiale	-	Doc 1 et 2
À l'échelle nationale et régionale	-	Doc 3 et 4
À l'échelle locale	-	Doc 5

Pays du Nord ou pays développés

Pays du sud ou pays en voie de développement

Pays émergents

PMA (Pays les moins avancés)






Éthiopie

EUA



	Famille états-unienne	Famille éthiopienne
Enfants	1 garçon, 1 fille, habits neufs	5 enfants, vêtements d’occasion, pieds nus
Métiers des parents <i>Heures/semaine</i>	Père électricien (40 h) Mère institutrice (20 h)	Père paysan (80 h) Mère paysanne (120 h)
Habitat	Maison 145 m², 8 pièces	Case de 30 m²
Mobilier	Salon, table, fauteuils, lits, machine à coudre...	Lit, coffre, panier plastique, poterie
Électro-ménager	2 TV, 3 chaînes HiFi, 5 téléphones, réfrigérateur	1 radio
Moyens de transport	1 Van, 1 4x4, 1 buggy	1 cheval
Revenu / an	135.0000 \$	750 \$
Espérance de vie	75 ans	45 ans
Nombre de médecins / hab.	1 médecin pour 400 hab	1 médecin pour 33.000 hab.
Mortalité infantile	1%	12%

WE MUST MAKE THIS A THING OF THE PAST.



 Save the Children
savethechildren.org.au





Concert de U2 à Chicago, en 2005.

Que dit le chanteur Bono,

à propos de la situation au Congo ?



Documentaire : « Mon beau village, au Sénégal »